



# COMBIEN D'OBJETS ?

**Compétence** : Dénombrer une collection d'objets en s'organisant pour faciliter la décomposition.

**Code de correction** : Colorie la case en vert si tu as tout réussi, en rouge si tu as fait une erreur.

1	2	3	4	5
6	7	8	9	10
11	12	13	14	15





**COMBIEN D'OBJETS ?**

**1**

\_\_\_\_\_ = \_\_\_\_\_ + \_\_\_\_\_



**COMBIEN D'OBJETS ?**

**2**

\_\_\_\_\_ = \_\_\_\_\_ + \_\_\_\_\_



**COMBIEN D'OBJETS ?**

**3**

\_\_\_\_\_ = \_\_\_\_\_ + \_\_\_\_\_



**COMBIEN D'OBJETS ?**

**4**

\_\_\_\_\_ = \_\_\_\_\_ + \_\_\_\_\_



COMBIEN D'OBJETS ?

5

$$\underline{\hspace{2cm}} = \underline{\hspace{2cm}} + \underline{\hspace{2cm}}$$



COMBIEN D'OBJETS ?

6

$$\underline{\hspace{2cm}} = \underline{\hspace{2cm}} + \underline{\hspace{2cm}}$$



COMBIEN D'OBJETS ?

7

$$\underline{\hspace{2cm}} = \underline{\hspace{2cm}} + \underline{\hspace{2cm}}$$



COMBIEN D'OBJETS ?

8

$$\underline{\hspace{2cm}} = \underline{\hspace{2cm}} + \underline{\hspace{2cm}}$$



**COMBIEN D'OBJETS ?**

**9**

$$\underline{\hspace{2cm}} = \underline{\hspace{2cm}} + \underline{\hspace{2cm}}$$



**COMBIEN D'OBJETS ?**

**10**

$$\underline{\hspace{2cm}} = \underline{\hspace{2cm}} + \underline{\hspace{2cm}}$$



**COMBIEN D'OBJETS ?**

**11**

$$\underline{\hspace{2cm}} = \underline{\hspace{2cm}} + \underline{\hspace{2cm}}$$



**COMBIEN D'OBJETS ?**

**12**

$$\underline{\hspace{2cm}} = \underline{\hspace{2cm}} + \underline{\hspace{2cm}}$$



**COMBIEN D'OBJETS ?**

**13**

\_\_\_\_\_ = \_\_\_\_\_ + \_\_\_\_\_



**COMBIEN D'OBJETS ?**

**14**

\_\_\_\_\_ = \_\_\_\_\_ + \_\_\_\_\_




**COMBIEN D'OBJETS ?**


**15**

\_\_\_\_\_ = \_\_\_\_\_ + \_\_\_\_\_


# CORRECTIONS COMBIEN D'OBJETS

	COMBIEN D'OBJETS ? correction	1
---	----------------------------------	---

$$25 = 20 + 5$$

	COMBIEN D'OBJETS ? correction	2
---	----------------------------------	---

$$16 = 10 + 6$$

	COMBIEN D'OBJETS ? correction	3
---	----------------------------------	---

$$13 = 10 + 3$$



**COMBIEN D'OBJETS ?**  
**correction**

**4**

$$21 = 20 + 1$$



**COMBIEN D'OBJETS ?**  
**correction**

**5**

$$29 = 20 + 9$$



**COMBIEN D'OBJETS ?**  
**correction**

**6**

$$22 = 20 + 2$$



**COMBIEN D'OBJETS ?**  
correction

**7**

$$14 = 10 + 4$$



**COMBIEN D'OBJETS ?**  
correction

**8**

$$27 = 20 + 7$$



**COMBIEN D'OBJETS ?**  
correction

**9**

$$15 = 10 + 5$$





**COMBIEN D'OBJETS ?**  
**correction**

**10**

$$31 = 30 + 1$$



**COMBIEN D'OBJETS ?**  
**correction**

**11**

$$12 = 10 + 2$$



**COMBIEN D'OBJETS ?**  
**correction**

**12**

$$11 = 10 + 1$$



**COMBIEN D'OBJETS ?**  
**correction**

**13**

$$24 = 20 + 4$$



**COMBIEN D'OBJETS ?**  
**correction**

**14**

$$32 = 30 + 2$$



**COMBIEN D'OBJETS ?**  
**correction**

**15**

$$20 = 20 + 0$$